



Colegio Tecnológico Pulmahue  
Profesor Angela Silva Riquelme

Contacto: [profeangela.edb@gmail.com](mailto:profeangela.edb@gmail.com)

Horario: 10:00 a 12:00 – 15:00 a 18:00 pm

### Matemática semana del 07 al 11 de septiembre

Objetivo: Contar números del 0 al 100 de 1 en 1, de 2 en 2, de 5 en 5 y de 10 en 10, hacia adelante y hacia atrás, empezando por cualquier número menor que 100.

Actividad 1: Reconoce las pistas con números y escribe las que faltan

**Completa la tabla con los números que faltan hasta el número 50**

1									
		13							
				25					
								39	
	42								

Actividad 2:

Contar de 10 en 10 hasta 100:  
10 20 30 40 50 60 70 80 90 100

Contar de 5 en 5 hasta 100:  
5 10 15 20 25 30 35 40 45 50 55  
60 65 70 75 80 85 90 95 100

Contar de 2 en 2 hasta 30:  
2 4 6 8 10 12 14 16 18 20  
22 24 26 28 30





Colegio Tecnológico Pulmahue  
Profesor Angela Silva Riquelme

Contacto: [profeangela.edb@gmail.com](mailto:profeangela.edb@gmail.com)

Horario: 10:00 a 12:00 – 15:00 a 18:00 pm

Actividad: Cuenta de 5 en 5 y luego escribe los números que faltan

Nombre: \_\_\_\_\_

# Contando de 5 en 5

Cuenta de 5 en 5 y escribe los números que faltan en las manos.





Colegio Tecnológico Pulmahue  
Profesor Angela Silva Riquelme

Contacto: [profeangela.edb@gmail.com](mailto:profeangela.edb@gmail.com)

Horario: 10:00 a 12:00 – 15:00 a 18:00 pm

Actividad3: Sigue la secuencia numérica completando con los números que faltan

		1		3	4		
15		13			10		8
		19		21			24
							25
				29			



Actividad 4


Para ensayar los números completa las páginas del cuadernillo


**38** **Números mayores que 10**

Libro Texto  
Pág. 80  
a  
Pág. 83

**15**  
minutos

**1** Escribe el número correspondiente.

a) 

b) 

**2** Completa.

a)  35  37 38  40

b)  63 62 61  59


c) 68 70 72 74  78

**4** Completa.



**5** ¿Cuántos hay?

a) 

b) 

c) 



Colegio Tecnológico Pulmahue  
 Profesor Angela Silva Riquelme

Contacto: [profeangela.edb@gmail.com](mailto:profeangela.edb@gmail.com)

Horario: 10:00 a 12:00 – 15:00 a 18:00 pm

42

Juego 1



10 minutos

Une los números y forma una figura.



Completa.

1	2	3	4	5	6		8	9	10
11	12	13	14			17		19	20
21	22		24		26	27	28	29	30
31	32	33	34		36	37	38		40
41	42	43	44	45		47		49	50